

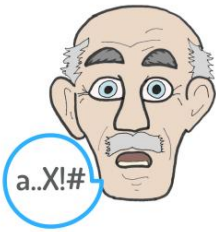



PRACOVNÍ LIST PROGRAMU HOBIT

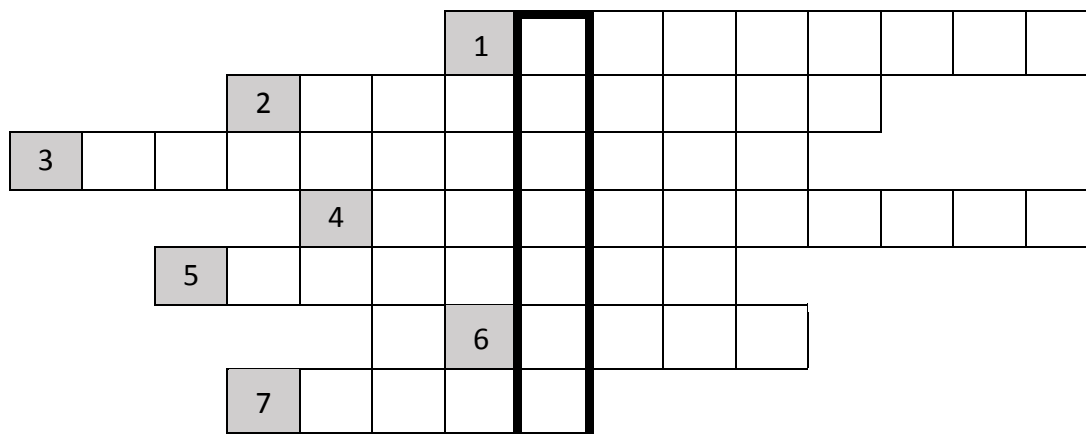
1. PŘÍŘAZOVÁNÍ

Přiřaď správný obrázek ke správnému nápisu.

FACE (tvář)	ARM (paže)	SPEECH (řeč)	TIME (čas volat 155)
			

2. KŘÍŽOVKA

- Při cévní mozkové příhodě se často objevuje problém s vyjadřováním slov, neboli s _____.
- Jedním z rizikových faktorů vzniku CMP, který je spojený s obsahem cukru v krvi se nazývá _____.
- Nejrizikovější faktor vzniku CMP, který však lze korigovat léky je _____.
- Lidé s CMP mají často problémy s chůzí, neboli s _____.
- Jedním z rizikových faktorů vzniku CMP, který je spojený s vyšší váhou se nazývá _____.
- Při CMP dochází k ucpání _____.
- Lidé s cévní mozkovou příhodou nemohou často zvednout do stejné výšky _____.



3. PŘESMYČKY

Najdi v přesmyčce rizikové faktory, které mohou přispět ke vzniku cévní mozkové příhody:

- | | |
|---------------------------|----------------------|
| 1. karovcuk | 5. kěv and 55 elt |
| 2. zibetao | 6. kýsoyvvníkrekalt |
| 3. řekouní | 7. tekstanedohypobu |
| 4. rnýnadmějempříkoalluho | 8. sokývylechorolste |